









**Задание № 1.** Знайка с друзьями живёт в трёхэтажном доме. На первом этаже 8 комнат, на втором – 7, а на третьем – 5. Сколько пустых комнат в доме, если у Знайки 15 друзей, а живут они по одному в комнате?

**Задание № 2.** Знайка решил потренироваться в правописании окончаний имён существительных. Помогите ему правильно раскрыть скобки:

- а. Деревья в лёгком (иней)
- б. Бродить по (отмель)
- в. Присутствовать при (разговор) с (участник) похода
- г. Гостить в (деревня)
- д. Побывать на (открытие) (выставка)

**Задание № 3.** Вокруг дома росли цветы. Подпишите названия цветов под картинками:

		
1. _____	2. _____	3. _____
		
4. _____	5. _____	6. _____

**Задание № 4.** Знайка выписал 5 слов и решил поставить в них ударения. Помогите Знайке сделать это правильно:

- а. Дождливо
- б. Процент
- в. Кладовая
- г. Цемент
- д. Молочный

**Задание № 5.** На свой день рождения Знайка угощал друзей конфетами. Сколько конфет было съедено на дне рождения Знайки, если к нему пришло 10 друзей, доктор Пилюлькин конфеты не ест, Пончик и Сиропчик съели по 6 штук, Незнайка – на треть меньше, чем Пончик и Сиропчик вместе, а все остальные – по 2 конфеты?

**Задание № 6.** Знайка придумал новую игру. Он подготовил несколько карточек с картинками. На каждой карточке был изображен предмет, а угадать нужно было сказочного персонажа, связанного с этим предметом. Попробуйте разгадать, каких персонажей загадал Знайка.

1. 	2. 	3. 
4. 	5. 	6. 

**Ответы:**

<b>Задание № 1.</b>	
<b>Задание № 2.</b>	а. б. в. г. д.
<b>Задание № 3.</b>	1. 2. 3. 4. 5. 6.
<b>Задание № 4.</b>	а. б. в. г. д.
<b>Задание № 5.</b>	
<b>Задание № 6.</b>	1. 2. 3. 4. 5. 6.

**Желаем успеха!**